

◎第101回必修問題一覧◎

【午前問題1】日本の平成21年（2009年）における男性の平均寿命に最も近いのはどれか。

1. 70年 2. 75年 3. 80年 4. 85年

【午前問題2】日本人の食事摂取基準（2010年版）において、摂取量の減少を目指しているのはどれか。

1. カリウム 2. 食物繊維 3. ナトリウム 4. カルシウム

【午前問題3】勤労女性に関して労働基準法で規定されているのはどれか。

1. 介護休業 2. 子の看護休暇 3. 産前産後の休業
4. 雇用における女性差別の禁止

【午前問題4】医療保険の給付の対象となるのはどれか。

1. 健康診断 2. 予防接種 3. 美容整形 4. 疾病の診察

【午前問題5】看護師に求められるアドボケートの役割はどれか。

1. 指示者 2. 責任者 3. 代弁者 4. 調整者

【午前問題6】社会的欲求はどれか。

1. 帰属の欲求 2. 安全の欲求 3. 睡眠の欲求 4. 食の欲求

【午前問題7】先天異常はどれか。

1. 尋常性白斑 2. 急性灰白髄炎 3. 重症筋無力症 4. 心房中隔欠損症
vitiligo vulgaris poliomyelitis myasthenia gravis atrial septal defect

【午前問題8】加齢による身体機能の変化で上昇・増加するのはどれか。

1. 肺活量 2. 基礎代謝率 3. 収縮期血圧 4. 胃液分泌量

【午前問題9】平成21年（2009年）国民生活基礎調査で、世帯総数における核家族世帯の割合はどれか。

1. 20% 2. 40% 3. 60% 4. 80%

【午前問題10】細胞外液に比べて細胞内液で濃度が高いのはどれか。

1. カルシウム 2. ナトリウム 3. カリウム 4. クロール

【午前問題11】死の三徴候に含まれるのはどれか。

1. 体温の低下 2. 心拍の停止 3. 筋肉の硬直 4. 角膜の混濁

【午前問題12】 右季肋部の痙痛発作を特徴とする疾患はどれか。

1. 胃癌 gastric cancer 2. 腸閉塞 ileus 3. 胆石症 cholelithiasis 4. 十二指腸潰瘍 duodenal ulcer

【午前問題13】 医療で用いる放射線量の単位はどれか。

1. Gy 2. IU 3. mEq 4. μg

【午前問題14】 認知症を説明しているのはどれか。

1. 知的発達の遅延 dementia 2. 意識障害の出現
3. 全身の筋肉の進行性萎縮 4. 一度獲得した知的機能の衰退

【午前問題15】 昇圧作用があるのはどれか。

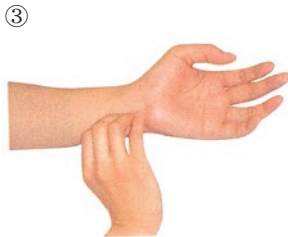
1. インスリン 2. ワルファリン 3. アドレナリン 4. ニトログリセリン

【午前問題16】 麻薬性鎮痛薬の副作用はどれか。

1. 心悸亢進 2. 食欲の亢進 3. 腸蠕動の抑制 4. 骨髄機能の抑制

【午前問題17】 脈拍の測定方法の写真を示す。正しいのはどれか。

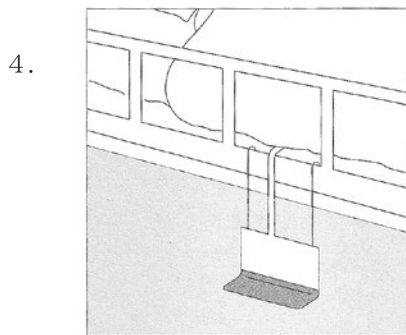
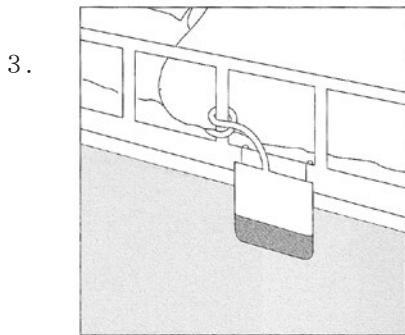
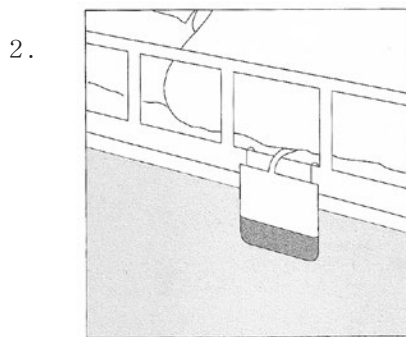
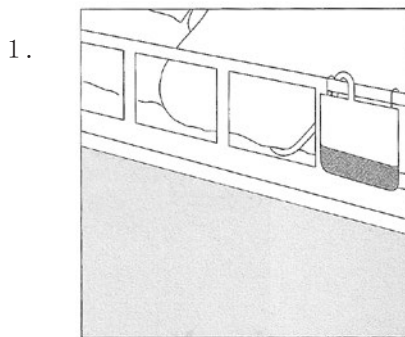
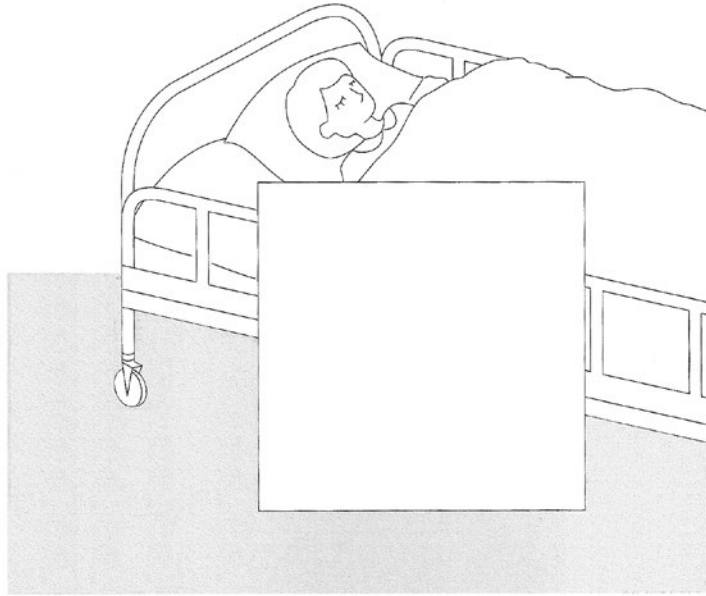
1. ① ① ②
2. ②
3. ③
4. ④



【午前問題18】 甲状腺機能検査を受ける患者の検査食はどれか。

1. ヨード制限食 2. 蛋白制限食 3. 脂肪制限食 4. 低残渣食

【午前問題19】 腹腔ドレーンの排液バッグをベッド柵にかけた図を示す。正しいのはどれか。



【午前問題20】 廃用症候群_{disuse syndrome}の予防で正しいのはどれか。

1. 温罨法 2. 安静臥床 3. 減塩食の提供 4. 関節可動域訓練

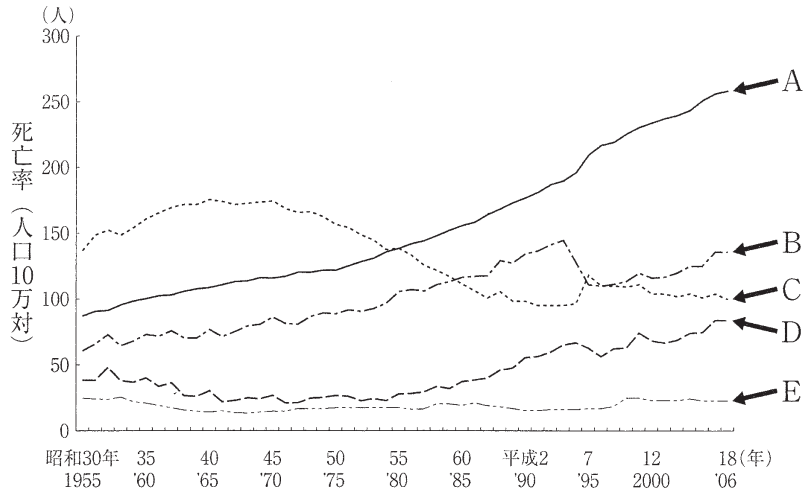
【午前問題21】 成人に血液検査のための静脈血採血をする際、最も適した注射針はどれか。

1. 16G 2. 18G 3. 22G 4. 27G

【午前問題22】 日本の法令で定められている酸素ボンベの色はどれか。

1. 赤 2. 黄 3. 緑 4. 黒

【午前問題23】 日本の主要死因別にみた死亡率の推移を図に示す。悪性新生物の推移はどれか。



1. A 2. B 3. C 4. D 5. E

【午前問題24】 訪問看護ステーションの管理者となることができるのはどれか。

1. 医師 2. 看護師 3. 薬剤師 4. 管理栄養士 5. 社会福祉士

【午前問題25】 スタンダードプリコーションで予防するのはどれか。

1. 誤薬 2. 誤嚥 3. 患者誤認 4. 院内感染 5. 転倒・転落

【午後問題1】 喫煙年数のほかに、喫煙指数 (Brinkman (ブリンクマン) 指数) を決定するのはどれか。

1. 喫煙開始年齢 2. 受動喫煙年数
3. 家庭内の喫煙者数 4. 1日の平均喫煙本数

【午後問題2】 シックハウス症候群の原因と考えられているのはどれか。

1. 電磁波 2. アスベスト 3. 窒素酸化物 4. ホルムアルデヒド

【午後問題3】 介護保険の第2号被保険者は、歳以上65歳未満の医療保険加入者である。に入る数字で正しいのはどれか。

1. 25 2. 30 3. 35 4. 40

【午後問題4】 保健師助産師看護師法で規定されている看護師の義務はどれか。

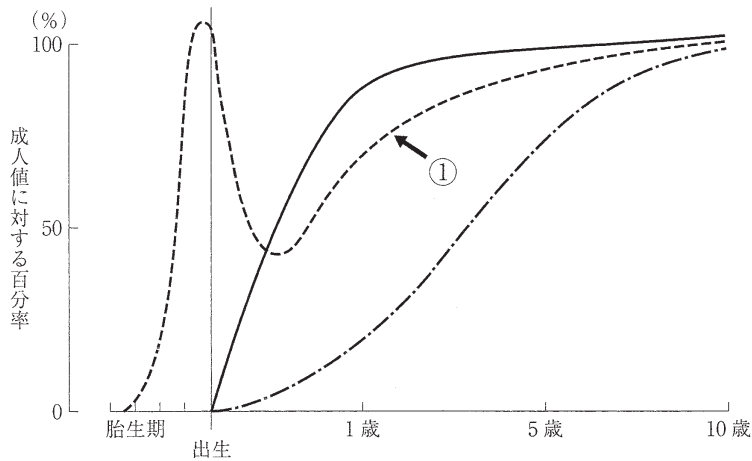
1. 記録の保存 2. 秘密の保持 3. 勤務時間の報告 4. 関係機関との連携

【午後問題5】 フィンクの危機モデルの第1段階はどれか。

1. 承認 2. 適応 3. 衝撃 4. 防衛的退行

【午後問題 6】 胎生期から10歳までの血清免疫グロブリン濃度の年齢による変動を図に示す。

①が示しているのはどれか。



1. IgA 2. IgD 3. IgG 4. IgM

【午後問題 7】 平成20年（2008年）国民健康・栄養調査において、女性でやせ（BMI<18.5）の割合が最も高いのはどれか。

1. 20～29歳 2. 30～39歳 3. 40～49歳 4. 50～59歳

【午後問題 8】 平成21年（2009年）における日本の高齢化率はどれか。

1. 2.7% 2. 12.7% 3. 22.7% 4. 32.7%

【午後問題 9】 プライマリナーシングの説明で正しいのはどれか。

1. 1人の看護師が毎日異なる患者を担当する。
2. 看護業務を内容別に分類し、複数の看護師が分担して実施する。
3. 1人の患者を1人の看護師が入院から退院まで継続して受け持つ。
4. 患者をいくつかのグループに分け、看護師がチームを組織して受け持つ。

【午後問題 10】 胎児の卵円孔の位置で正しいのはどれか。

1. 右心房と左心房の間 2. 右心室と左心室の間
3. 大動脈と肺動脈の間 4. 門脈と下大静脈の間

【午後問題 11】 チアノーゼの際に増加しているのはどれか。

1. 直接ビリルビン 2. 間接ビリルビン
3. 酸化ヘモグロビン 4. 還元ヘモグロビン

【午後問題 12】 乏尿はどれか。

1. 1日の尿量が少ない。 2. 尿意が乏しい。
3. 排尿痛がない。 4. 尿比重が低い。

【午後問題13】 全身性のけいれん発作時の対応で優先するのはどれか。

1. 血圧測定 2. 四肢の固定 3. 気道の確保 4. 静脈路の確保

【午後問題14】 糖尿病の診断指標となるのはどれか。

1. 尿酸値 2. HbA_{1c} 3. 赤血球沈降速度
4. プロトロンビン時間

【午後問題15】 経口感染する肝炎はどれか。

1. A型肝炎 2. B型肝炎 3. C型肝炎 4. D型肝炎
hepatitis A hepatitis B hepatitis C hepatitis D

【午後問題16】 抗癌薬による骨髄機能抑制症状はどれか。

1. 嘔吐 2. 脱毛 3. 下痢 4. 歯肉出血

【午後問題17】 冷凍保存する血液製剤はどれか。

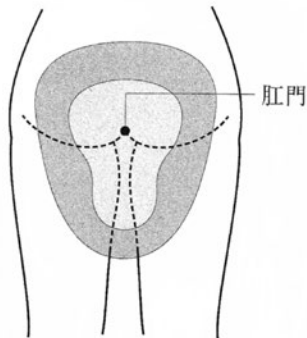
1. アルブミン 2. グロブリン 3. 血小板 4. 血漿

【午後問題18】 治療・ケアが疾患別に時系列で示されているのはどれか。

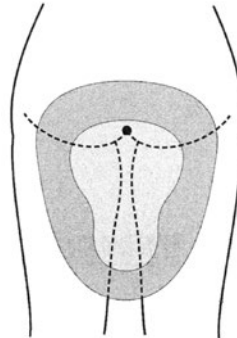
1. 熱型表 2. クリニカルパス
3. 問題志向型叙述記録 4. フォーカスチャーティング

【午後問題19】 女性患者の床上排泄において洋式便器をあてる位置を図に示す。適切なのはどれか。

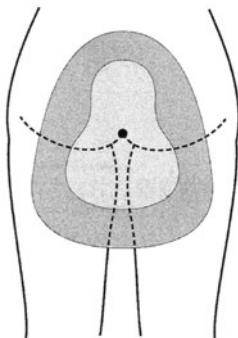
1.



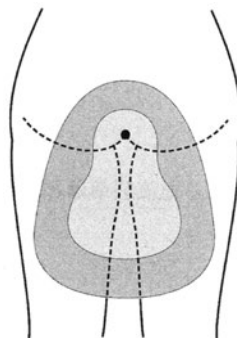
2.



3.



4.



【午後問題20】 成人男性に対して一時的な導尿をする際に、カテーテルを挿入する長さはどれか。

1. 4～6 cm 2. 8～10cm 3. 18～20cm 4. 28～30cm

【午後問題21】 左上肢に拘縮のある患者の寝衣交換で正しいのはどれか。

1. 脱がせるときも着せるときも右手から行う。
2. 脱がせるときは右手から行い、着せるときは左手から行う。
3. 脱がせるときも着せるときも左手から行う。
4. 脱がせるときは左手から行い、着せるときは右手から行う。

【午後問題22】 注射針を皮膚に対して45～90度の角度で刺入する注射法はどれか。

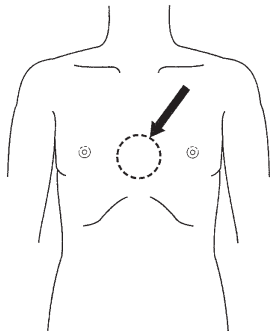
1. 皮下注射 2. 皮内注射 3. 筋肉内注射 4. 静脈内注射

【午後問題23】 ゴム製湯たんぽを使った温罨法で正しいのはどれか。

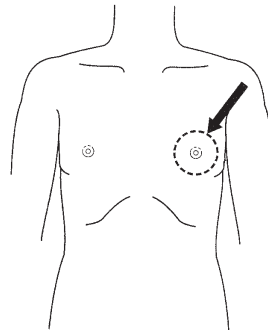
1. 入れる湯の温度は70℃とする。
2. 湯を1/3程度入れる。
3. 湯たんぽ内の空気を抜いて栓をする。
4. 湯たんぽは身体から2～3 cm離しておく。

【午後問題24】 成人の一次救命処置における圧迫部位を図に示す。正しいのはどれか。

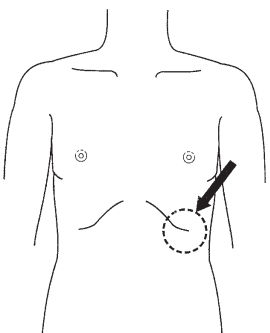
1.



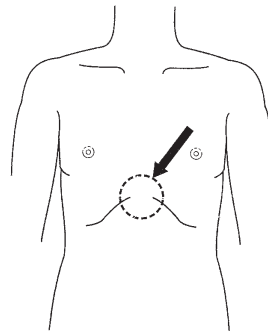
2.



3.



4.



【午後問題25】 褥瘡の洗浄液で適切なのはどれか。

1. エタノール 2. 生理食塩液 3. ホルマリン 4. クロロヘキシジン